



# アジア州①

解答は一括でON/OFFできます

自然、農業・文化と経済 →教科書p.48~51

目標

アジア州の自然と農業・文化、経済発展についておさえよう。

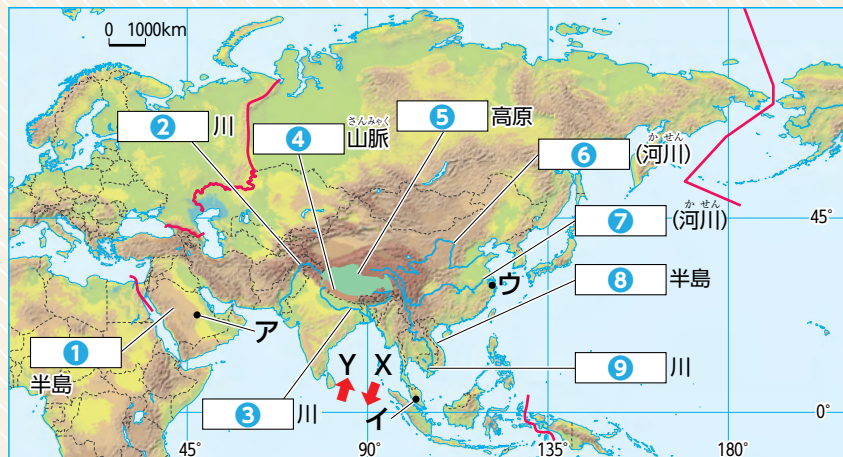


## 教科書の基本をおさえよう

### 1 アジア州の自然環境

→教p.48~49

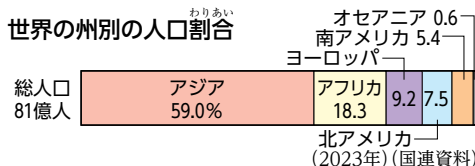
地図で確認 地図中の①～⑨にあてはまる地形名を、あとから1つずつ選びなさい。→48



インドシナ 長江 ガンジス 黄河 チベット ヒマラヤ アラビア インダス メコン

- ① アラビア 半島
- ② インダス 川
- ③ ガンジス 川
- ④ ヒマラヤ 山脈
- ⑤ チベット 高原
- ⑥ 黄河 川
- ⑦ 長江 川
- ⑧ インドシナ 半島
- ⑨ メコン 川

48 ユーラシア大陸 (1) 読取 グラフから、アジアには約何億人が暮らしているか。小数第一位を四捨五入して整数で答えなさい。



(1) 約 48 億人

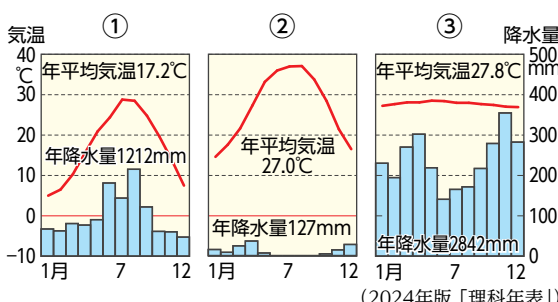
49 季節風の影響とアジアの気候 (2) 地図中の→は、夏と冬で向きが逆になる風を示している。この風を何といいますか。また、X・Yのうち、夏の風向きを選びなさい。

(2) 季節風[モンスーン] 夏の風向き Y

(3) X・Yの風の影響で、南アジアから東アジアにかけての沿岸部では、次の①・②のような時期がみられる。それぞれ何といいますか。① 海からの風の影響で雨が多く降る時期。② 内陸からの風の影響で雨が少なくなる時期。

(3) ① 雨季 ② 乾季

(4) 読取 ①～③の雨温図は、地図中のア～ウのいずれかの都市のものである。①～③の雨温図にあてはまる都市を、ア～ウから1つずつ選びなさい。また、①～③の雨温図が示す気候帯名を、それぞれ答えなさい。



(4) ① ウ 気候帯 おんたい帯 (暖帯) ② ア 気候帯 かんそうたい帯 (乾燥帯) ③ イ 気候帯 ねつたい帯 (熱帯)



# アジア州①

解答は一括でON/OFFできます

自然、農業・文化と経済 →教科書p.48~51

目標

アジア州の自然と農業・文化、経済発展についておさえよう。

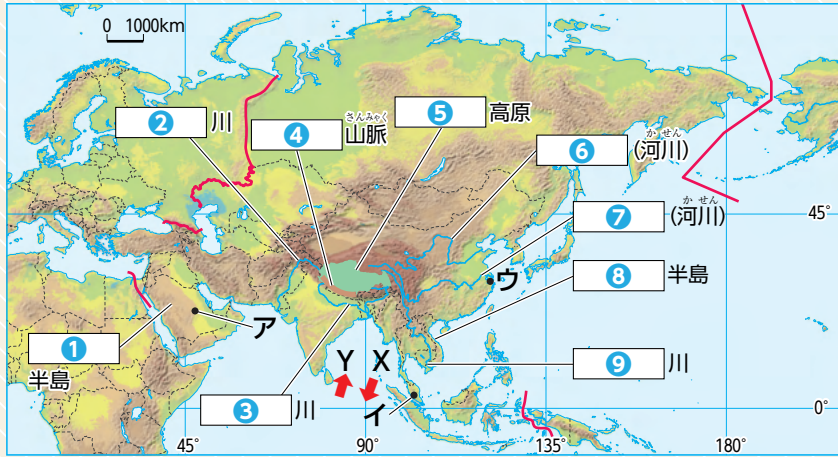


## 教科書の基本をおさえよう

### 1 アジア州の自然環境

→教p.48~49

地図で確認 地図中の①～⑨にあてはまる地形名を、あとから1つずつ選びなさい。→48

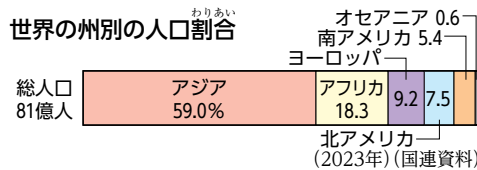


①	半島
②	川
③	川
④	山脈
⑤	高原
⑥	
⑦	
⑧	半島
⑨	川

(1)	約 億人
(2)	夏の風向き
(3)	①
(4)	記号 気候帯
(4)	① 記号 気候帯
(4)	② 記号 気候帯
(4)	③ 記号 気候帯

インドシナ 長江  
 ガンジス 黄河  
 チベット ヒマラヤ  
 アラビア インダス  
 メコン

① 読取 グラフから、アジアには約何億人が暮らしているか。小数第一位を四捨五入して整数で答えなさい。



② 地図中の→は、夏と冬で向きが逆になる風を示している。この風を何といいますか。また、X・Yのうち、夏の風向きを選びなさい。

③ X・Yの風の影響で、南アジアから東アジアにかけての沿岸部では、次の①・②のような時期がみられる。それぞれ何といいますか。  
 ① 海からの風の影響で雨が多く降る時期。  
 ② 内陸からの風の影響で雨が少なくなる時期。

④ 読取 ①～③の雨温図は、地図中のア～ウのいずれかの都市のものである。①～③の雨温図にあてはまる都市を、ア～ウから1つずつ選びなさい。また、①～③の雨温図が示す気候帯名を、それぞれ答えなさい。

